

Exercice n°1 [4,5 points]

1) Les tranches horaires de départs possibles pour ce voilier sont environ : **de 0 h à 1 h puis de 8 h à 12 h.**

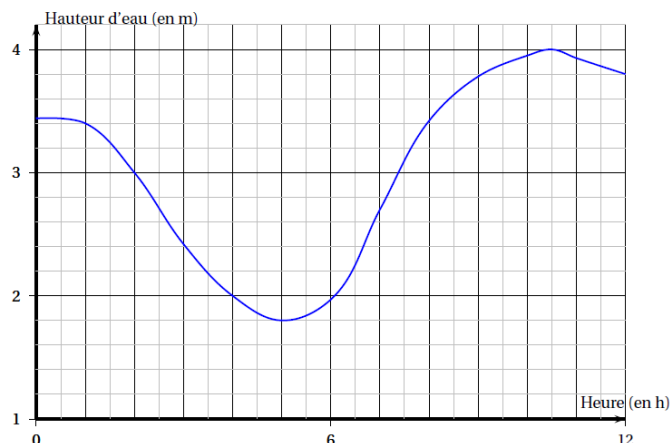
2) Julien va partir à **10 h 30** environ.

3) 2 a pour image **3** environ par la fonction f.

A 2h, la hauteur d'eau est d'environ 3 m.

4) Les antécédents de 2 par la fonction f sont environ **4 et 6.**

La hauteur d'eau est de 2 m à 4 h et à 6 h environ.



Exercice n° 2 [4 points]

Tarif 1 : 8 € la place.

Tarif 2 : 4 € la place sur présentation d'une carte d'abonnement achetée 70 € valable un an.

a) $8 \times 12 = 96$ Avec le tarif 1, le prix à payer pour 12 entrées est de **96 €.**

$4 \times 12 + 70 = 118$ Avec le tarif 2, le prix à payer pour 12 entrées est de **118 €.**

Donc, si une personne va au cinéma 12 fois dans l'année, elle n'a pas intérêt à acheter la carte d'abonnement.

b) On désigne par x le nombre de places achetées par une personne au cours d'une année.

$P_1 = 8x$

$P_2 = 4x + 70$

c)

$P_2 < P_1$

$4x + 70 < 8x$

$70 < 8x - 4x$

$70 < 4x$

$\frac{70}{4} < x$

$17,5 < x$

$x > 17,5$

A partir de 18 places on a intérêt à s'abonner.

Exercice n°3 [5,5 points]

<p>1) $A = (5x + 2)^2 + (x - 3)(5x + 2)$ $A = 25x^2 + 20x + 4 + 5x^2 + 2x - 15x - 6$ $A = 30x^2 + 7x - 2$</p>	<p>2) $A = (5x + 2)^2 + (x - 3)(5x + 2)$ $A = (5x + 2)[(5x + 2) + (x - 3)]$ $A = (5x + 2)[5x + 2 + x - 3]$ $A = (5x + 2)(6x - 1)$</p> <p>3) Si $x = 3$, $A = 30 \times 3^2 + 7 \times 3 - 2$ $A = 270 + 21 - 2$ $A = 289$</p>	<p>4) $(5x + 2)(6x - 1) = 0$ $5x + 2 = 0$ ou $6x - 1 = 0$ $x = \frac{-2}{5}$ ou $x = \frac{1}{6}$</p> <p>Cette équation a deux solutions: $\frac{-2}{5}$ et $\frac{1}{6}$.</p>
---	---	---

Exercice n°4 [4 points]

a) $M = \frac{165 + 173 + 175 + 176 + 178 + 183 + 183 + 184 + 187 + 192 + 195}{11} = 181$

La taille moyenne des joueurs est **181 cm**.

b) Il faut ranger les 11 données dans l'ordre croissant :

165 - 173 - 175 - 176 - 178 - 183 - 183 - 184 - 187 - 192 - 195.

11 est impair et $11 = 5 + 1 + 5$. Il faut donc trouver la 6^{ème} donnée ordonnée.

La 6^{ème} donnée est 183 ; par suite la médiane est **183 cm**.

c) Etendue = $195 - 165 = 30 \text{ cm}$.

d) $\frac{6 \times 100}{11} \approx 54,55$


Le pourcentage des joueurs ayant une taille supérieure à 1m80 est de **54,55%** (arrondi au centième)

Exercice n°5 [2 points]

Dans le triangle STH rectangle en H, on a :

$$\sin \widehat{STH} = \frac{SH}{ST}$$

$$\sin \widehat{STH} = \frac{320}{500} \quad \text{donc} \quad \boxed{\widehat{STH} \approx 40^\circ}$$



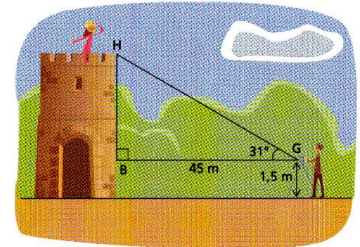
Exercice n°6 [3 points]

Dans le triangle rectangle GBH, on a :

$$\tan \widehat{BGH} = \frac{HB}{BG}$$

$$\tan 31^\circ = \frac{HB}{45}$$

$$HB = 45 \times \tan 31^\circ \text{ m} \quad HB \approx 27,04 \text{ m (arrondi au cm)} \quad 27,04 + 1,5 = 28,54$$



La hauteur de la tour est d'environ 28,54 m.

Exercice n°7 [3 points]

1A 2B 3C 4B 5C 6B

